


## Exercice 1 - Les pluies acides (9 points)

Formées à partir du dioxyde de soufre et des oxydes d'azote liés aux activités humaines et rejetés dans l'atmosphère, les pluies acides engendrent des problèmes de santé. Elles ont aussi des conséquences visibles sur le sol, la flore et la faune, les métaux, etc. Les pierres calcaires de nombreux bâtiments et statues sont également détériorées par ces pluies acides.

D'après <https://www.futura-sciences.com>



Shutterstock.com/LiliGraphie

Le but de cet exercice est d'étudier l'origine des pluies acides ainsi que leurs conséquences sur les bâtiments et les statues, et enfin d'analyser un protocole de contrôle de qualité de l'air.

## Données :

- masse molaire du carbonate de calcium :  $M(\text{CaCO}_3) = 100,1 \text{ g} \cdot \text{mol}^{-1}$  ;
- masse molaire du dioxyde de soufre :  $M(\text{SO}_2) = 64,1 \text{ g} \cdot \text{mol}^{-1}$  ;
- constante des gaz parfaits :  $R = 8,31 \text{ J} \cdot \text{K}^{-1} \cdot \text{mol}^{-1}$  ;
- masse volumique de l'eau :  $\rho(\text{eau}) = 1,00 \times 10^3 \text{ g} \cdot \text{L}^{-1}$  ;
- concentration standard :  $c^\circ = 1 \text{ mol} \cdot \text{L}^{-1}$  ;
- espèces chimiques carbonées en solution :  $\text{CO}_2(\text{aq})$ ,  $\text{HCO}_3^-(\text{aq})$  et  $\text{CO}_3^{2-}(\text{aq})$ .

## 1. Origine des pluies acides

L'eau de pluie non polluée est naturellement acide et son pH est d'environ 5,6 à 25 °C. Cette acidité est due à la dissolution dans l'eau du dioxyde de carbone  $\text{CO}_2$ . La concentration à l'équilibre en dioxyde de carbone dissous dans une eau de pluie non polluée à 25 °C est  $[\text{CO}_2] = 1,3 \times 10^{-5} \text{ mol} \cdot \text{L}^{-1}$ .

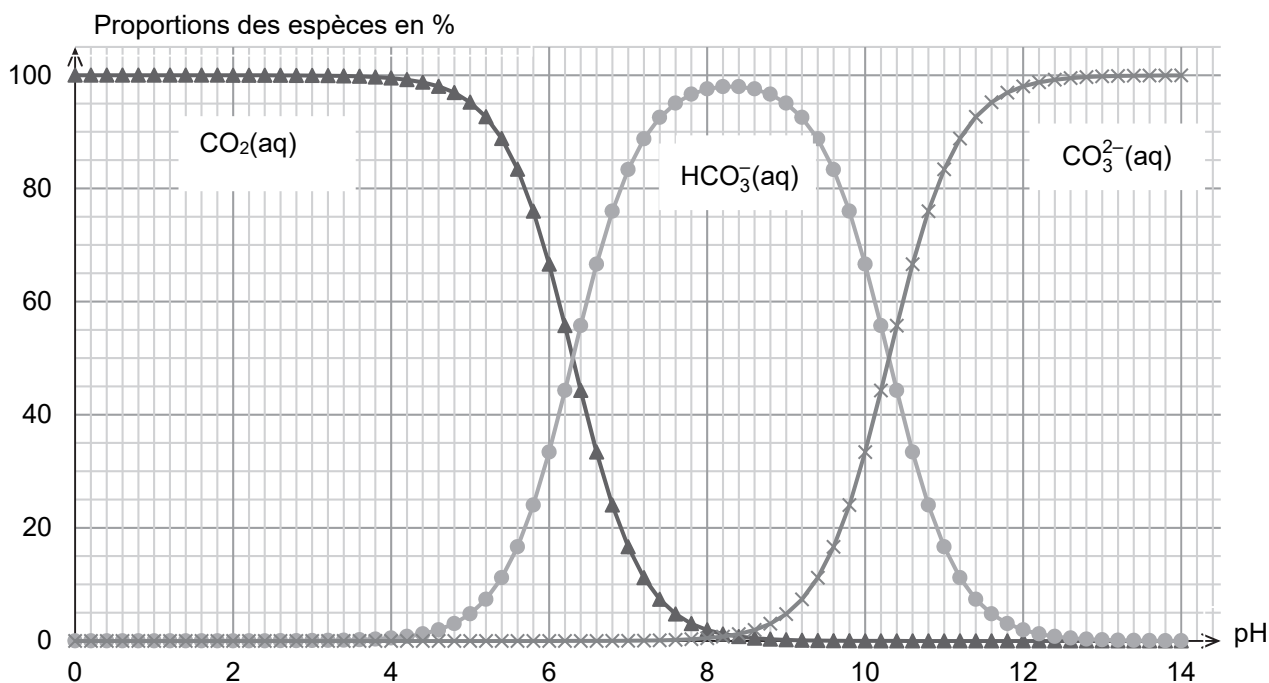


Figure 1. Diagramme de distribution des espèces  $\text{CO}_2(\text{aq})$ ,  $\text{HCO}_3^-(\text{aq})$  et  $\text{CO}_3^{2-}(\text{aq})$  en solution aqueuse à 25 °C

**Q1.** Écrire l'équation de la réaction acide-base modélisant la transformation chimique entre le dioxyde de carbone dissous et l'eau. Justifier le fait que le dioxyde de carbone puisse rendre acides les pluies.



**Q2.** En utilisant la figure 1, vérifier que la valeur du  $pK_A$  du couple  $CO_2(aq) / HCO_3^-(aq)$  est voisine de 6,4 à 25 °C.

On suppose que seule la réaction entre le dioxyde de carbone dissous  $CO_2(aq)$  et l'eau a lieu et que la concentration en  $CO_2(aq)$  à l'équilibre, imposée par le dioxyde de carbone présent dans l'atmosphère, est toujours égale à  $1,3 \times 10^{-5} \text{ mol} \cdot \text{L}^{-1}$ .

**Q3.** Donner la relation entre les concentrations des espèces  $HCO_3^-$  et  $H_3O^+$  à l'équilibre, notées  $[HCO_3^-]$  et  $[H_3O^+]$ , puis montrer que la constante d'acidité  $K_A$  a pour expression :

$$K_A = \frac{[H_3O^+]^2}{[CO_2] \cdot c^\circ}$$

**Q4.** Retrouver que la valeur du pH de l'eau de pluie non polluée à 25 °C est de 5,6.

Une eau de pluie est dite acide lorsque son pH est inférieur à 5,6 à 25 °C. L'acidification de l'eau de pluie est due, entre autres, au rejet dans l'atmosphère d'oxydes d'azote NO et  $NO_2$  qui conduisent à la formation d'acide nitrique  $HNO_3$ .

Afin d'étudier les propriétés acido-basiques de l'acide nitrique, on prépare un volume de 2,00 L d'une solution aqueuse S d'acide nitrique diluée 400 fois à partir d'une solution commerciale  $S_0$  de concentration  $c_0 = 15,2 \text{ mol} \cdot \text{L}^{-1}$ .

**Q5.** Indiquer, en précisant les volumes, la verrerie à utiliser pour préparer 2,00 L de solution aqueuse S d'acide nitrique à partir de la solution commerciale  $S_0$ .

On plonge une sonde pH-métrique dans la solution S : le pH-mètre affiche une valeur de 1,42 à 25 °C.

**Q6.** Déterminer, en justifiant, si la mesure du pH est cohérente avec le fait que l'acide nitrique est un acide fort dans l'eau.

## 2. Conséquences des pluies acides

Dans cette partie on se propose d'expliquer la dégradation, par les pluies acides, des bâtiments et des statues construits avec des roches calcaires composées principalement de carbonate de calcium  $CaCO_3(s)$ .

Afin de simuler l'effet des pluies acides sur les roches calcaires, on fait réagir du carbonate de calcium avec une solution d'acide chlorhydrique. Le protocole décrit ci-dessous est réalisé à une température de 295 K :

- dans une fiole à vide de volume total 330 mL, on verse 50 mL d'une solution d'acide chlorhydrique. On considère que le volume restant disponible pour du gaz dans la fiole est ainsi de 280 mL ;
- on relie, par un tuyau, la fiole à vide à un manomètre ;
- à la date  $t = 0$ , on introduit rapidement dans la fiole à vide 2,0 g de carbonate de calcium solide, on bouche la fiole à vide puis on relève les valeurs de pression indiquées par le manomètre au cours du temps. On considère que l'introduction du carbonate de calcium ne modifie pas le volume disponible pour le gaz.

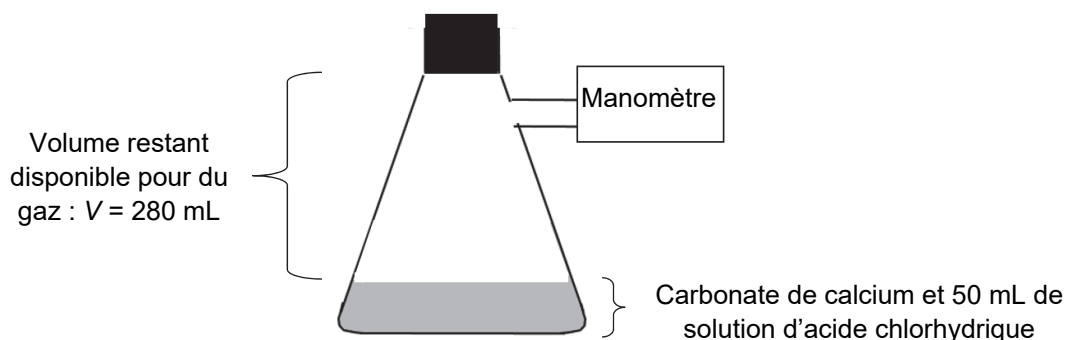


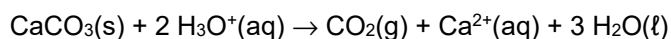
Figure 2. Schéma du montage expérimental



Les résultats ci-dessous sont donnés pour trois conditions expérimentales différentes :

	Concentration de la solution d'acide chlorhydrique utilisée	État de division du carbonate de calcium	Temps de demi – réaction $t_{1/2}$
Expérience n°1	$1,0 \times 10^{-1} \text{ mol} \cdot \text{L}^{-1}$	en poudre	à déterminer
Expérience n°2	$2,0 \times 10^{-1} \text{ mol} \cdot \text{L}^{-1}$	en poudre	80 s
Expérience n°3	$2,0 \times 10^{-1} \text{ mol} \cdot \text{L}^{-1}$	en morceaux	$1,6 \times 10^3 \text{ s}$

La transformation chimique ayant lieu lors de chacune des expériences peut être modélisée par la réaction, supposée totale, d'équation :



Les résultats obtenus permettent de tracer la courbe d'évolution de la pression  $P_{\text{CO}_2}$  de dioxyde de carbone gazeux formé en fonction du temps  $t$  pour l'expérience n°1. Les résultats sont présentés sur la figure 3. Cette pression tient compte de l'estimation des pertes liées à la manipulation.

Dans les différentes conditions expérimentales, le dioxyde de carbone gazeux est assimilé à un gaz parfait dont l'expression de la pression s'écrit :

$$P_{\text{CO}_2} = \frac{n_{\text{CO}_2} \cdot R \cdot T}{V}$$

où  $P_{\text{CO}_2}$  s'exprime en Pa,  $n_{\text{CO}_2}$  s'exprime en mol,  $T$  s'exprime en K et  $V$  s'exprime en  $\text{m}^3$ .

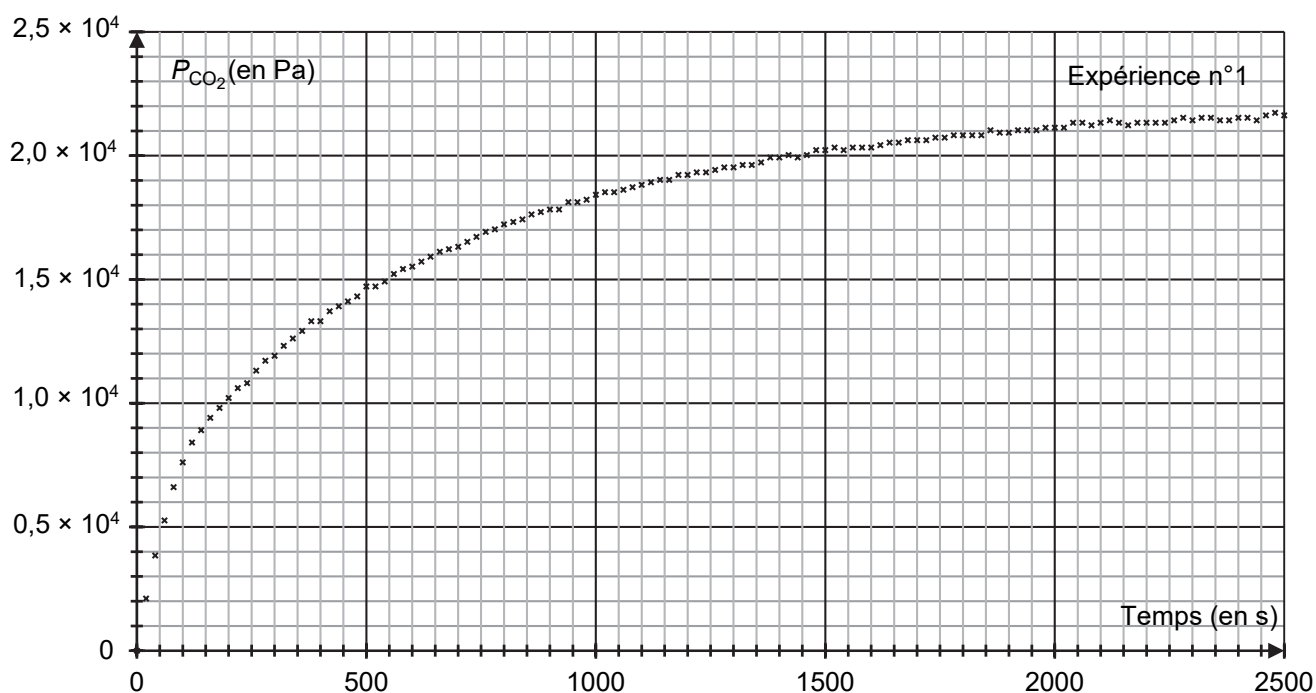


Figure 3. Évolution de la pression  $P_{\text{CO}_2}$  de dioxyde de carbone gazeux en fonction du temps  $t$  pour l'expérience n°1

**Q7.** Montrer que la quantité de matière théorique maximale de dioxyde de carbone gazeux pouvant être obtenue dans les conditions de l'expérience n°1 est  $n_{\text{CO}_2, \text{max}} = 2,5 \times 10^{-3} \text{ mol}$ .

**Q8.** Estimer la quantité de matière de dioxyde de carbone gazeux réellement présente dans la fiole à vide dans l'état final lors de l'expérience n°1. Commenter le résultat obtenu.



**Q9.** Estimer, en expliquant la démarche, le temps de demi-réaction de la transformation chimique mise en œuvre dans l'expérience n°1.

**Q10.** En exploitant les résultats des trois expériences réalisées, indiquer un facteur qui influence la cinétique de la détérioration des bâtiments et des statues.

### 3. Prévention des pluies acides : contrôle de la qualité de l'air

Afin de réduire les émissions d'oxydes d'azote et de dioxyde de soufre  $\text{SO}_2$ , espèces également responsables de l'acidité des pluies, plusieurs dispositions réglementaires ont été prises dans de nombreux pays. Des normes de qualité de l'air ont été fixées pour le dioxyde de soufre  $\text{SO}_2$ , et un contrôle régulier de sa concentration dans l'air est réalisé.

On donne ci-après les normes de qualité de l'air liées à la concentration en masse de dioxyde de soufre  $\text{SO}_2$  dans l'air en France.

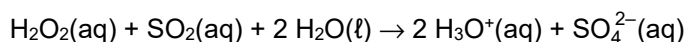
Objectif de qualité	$50 \mu\text{g}\cdot\text{m}^{-3}$	en moyenne annuelle
Valeur limite	$125 \mu\text{g}\cdot\text{m}^{-3}$	en moyenne journalière à ne pas dépasser plus de 3 jours par an
Seuil d'information et de recommandation	$300 \mu\text{g}\cdot\text{m}^{-3}$	en moyenne horaire

*D'après <https://www.ecologique-solaire.gouv.fr/pollution-lair-origines-situation-et-impacts>*

Afin de déterminer la concentration du dioxyde de soufre  $\text{SO}_2$  dans l'air, on réalise l'expérience suivante :

- **étape 1** : avec une pompe, on fait barboter de l'air, en continu pendant 7 jours, dans une solution aqueuse de peroxyde d'hydrogène  $\text{H}_2\text{O}_2(\text{aq})$ . Le volume total d'air ainsi utilisé est de  $18,5 \text{ m}^3$ . On obtient une solution aqueuse notée  $S_a$  ; on suppose que toute la quantité de dioxyde de soufre apporté par l'air au cours de son barbotage se dissout dans la solution de peroxyde d'hydrogène et que c'est la seule espèce acide ;
- **étape 2** : on titre les ions oxonium  $\text{H}_3\text{O}^+$  de la solution  $S_a$  par une solution aqueuse  $S_b$  d'hydroxyde de sodium de concentration égale à  $c_b = 1,0 \times 10^{-2} \text{ mol}\cdot\text{L}^{-1}$ . Le volume de solution  $S_b$  versé à l'équivalence du titrage est  $V_E = 4,0 \text{ mL}$ .

**Q11.** La transformation chimique ayant lieu lors de l'étape 1 est totale et peut être modélisée par la réaction d'équation :



Sachant que le peroxyde d'hydrogène a été introduit en excès, déterminer la relation entre la quantité de matière  $n(\text{SO}_2)$  de dioxyde de soufre présent dans l'air analysé et la quantité de matière  $n(\text{H}_3\text{O}^+)$  d'ions oxonium contenus dans la solution  $S_a$ .

**Q12.** En considérant que la concentration en masse du dioxyde du soufre dans l'air n'a pas varié pendant toute la durée de l'étape 1, déterminer si les  $18,5 \text{ m}^3$  d'air analysé respectent les normes de qualité concernant le dioxyde de soufre. Commenter le protocole et les hypothèses du raisonnement.

*Le candidat est invité à prendre des initiatives et à présenter la démarche suivie, même si elle n'a pas abouti. La démarche est évaluée et nécessite d'être correctement présentée.*